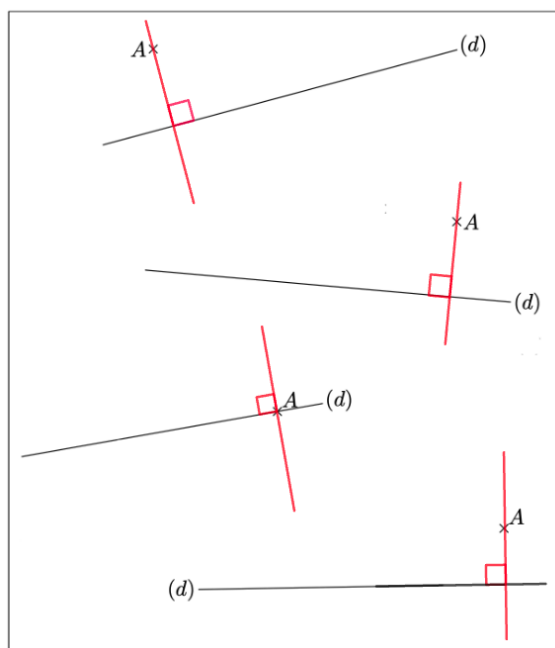


Chapitre 4

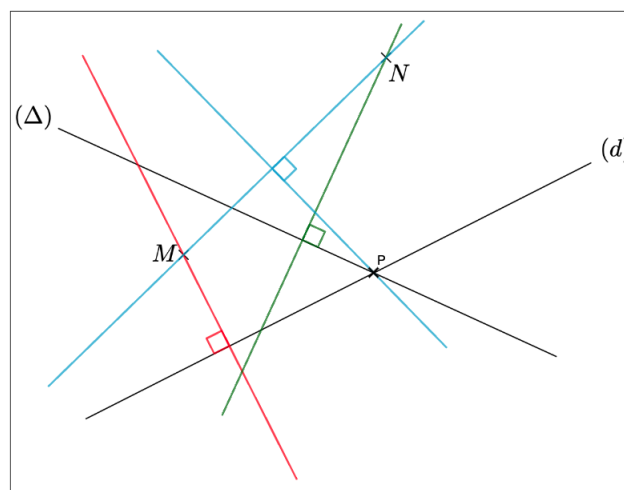
DROITES PERPENDICULAIRES ET PARALLÈLES : Fiche d'exercices - Correction

Exercice 1

Dans chacun des quatre cas présentés ci-dessous, tracer la perpendiculaire à la droite (d) passant par le point A .



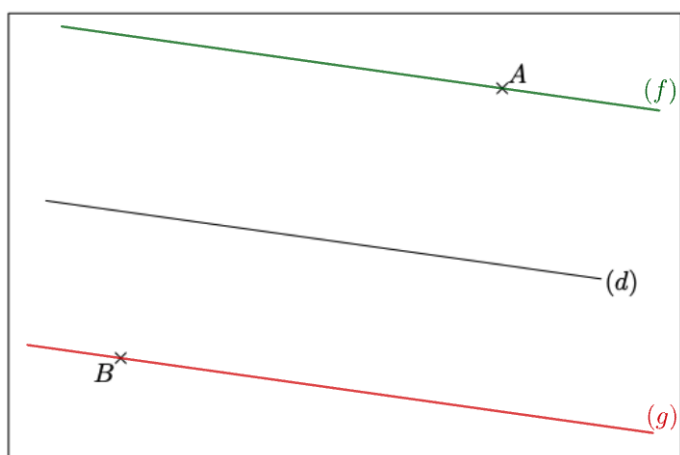
Exercice 2



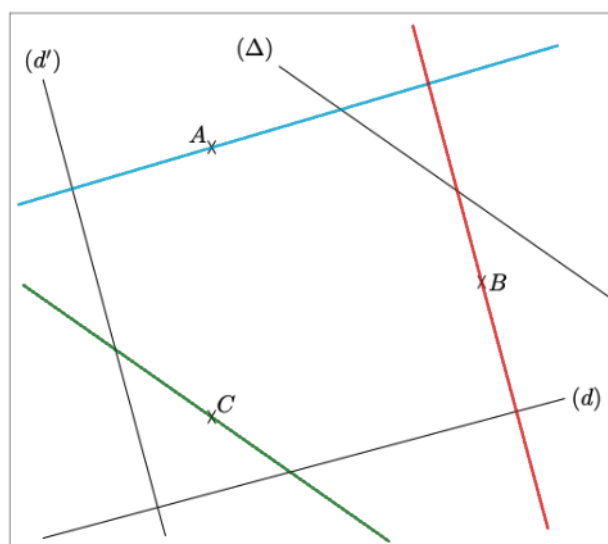
1. Tracer la perpendiculaire à la droite (d) passant par M .
2. Tracer la perpendiculaire à la droite (Δ) passant par N .
3. Nommer P le point d'intersection des droites (d) et (Δ) .
4. Tracer la droite (MN) .
5. Tracer la perpendiculaire à (MN) passant par P .

Exercice 3

1. Tracer la droite (f) parallèle à (d) passant par A .
2. Tracer la droite (g) parallèle à (d) passant par B .



Exercice 4



1. Tracer en bleu la parallèle à (d) passant par A .
2. Tracer en rouge la parallèle à (d') passant par B .
3. Tracer en vert la parallèle à (Δ) passant par C .